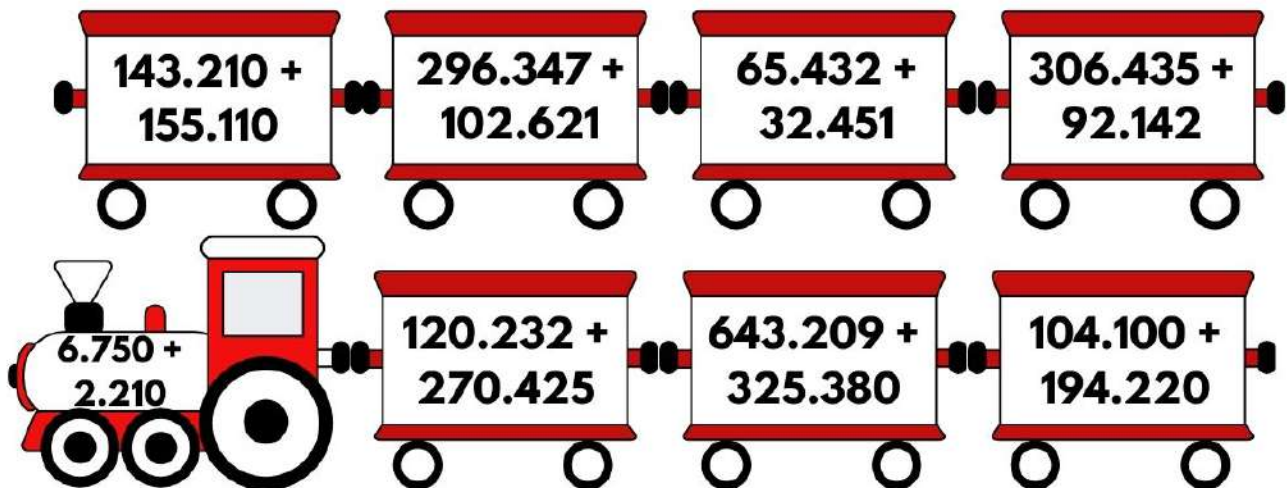




GUÍA DIDÁCTICA

ADICIÓN O SUMA DE NÚMEROS HASTA 100 MIL

- ▶ Realiza el siguiente ejercicio y realiza las sumas que sean necesarias:
- Van a colorear con amarillo los vagones del tren en los que la suma sea mayor que 380.932.
- Vamos a colorear con azul los vagones en los que la suma sea menor que 200.000.
- Y vamos a colorear con rojo los vagones en los que la suma sea igual a 298.320.







GUÍA DIDÁCTICA

ADICIÓN O SUMA DE NÚMEROS HASTA 100 MIL

Realiza las siguientes adiciones o sumas:



cm	dm	um	c	d	u
4	8	1	5	2	4
2	2	8	3	4	4



cm	dm	um	c	d	u
6	2	1	5	6	2
4	1	7	1	4	4

